

---

## Eignungstest

Allgemeine Musiklehre


Name: .....

Datum: .....

Ergebnis: .....

---

1. Notieren Sie folgende Töne:




a1 g1 es2 Fis b fis1 H des gisis1

2. Notieren Sie folgende Tonleitern:

E- Dur

g- Moll



3. Bestimmen Sie folgende Intervalle:




4. Notieren Sie folgende Intervalle:

r.5 über f1

gr.7 unter des2

verm.4 über gis

kl. 6 unter b



5. Notieren Sie die Vorzeichnung folgender Tonarten:

Es- Dur

A- Dur

f- Moll

d- Moll



6. Notieren Sie folgende Dreiklänge:

A- Dur

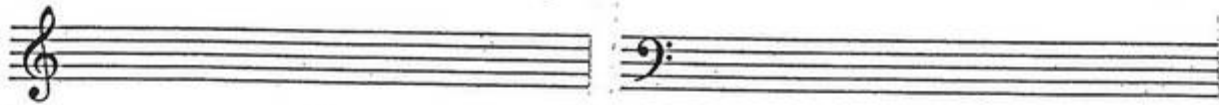
h- Moll

As- Dur

g- Moll

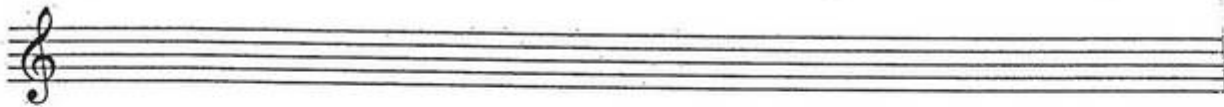
d- Moll

E- Dur



7. Notieren Sie über g1

je einen Dur-, Moll, verminderten und übermäßigen Dreiklang.



8. Benennen Sie die folgenden Akkorde:



9. Ergänzen Sie Takt 1 und 2 mit je einem Notenwert, Takt 3 und 4 mit je einem Pausenwert an der gekennzeichneten Stelle.

